



بسم الله الرحمن الرحيم

ارزشیابی نوبت دوم دبستان پسرانه غیر دولتی امیدنو سال تحصیلی 99-1400

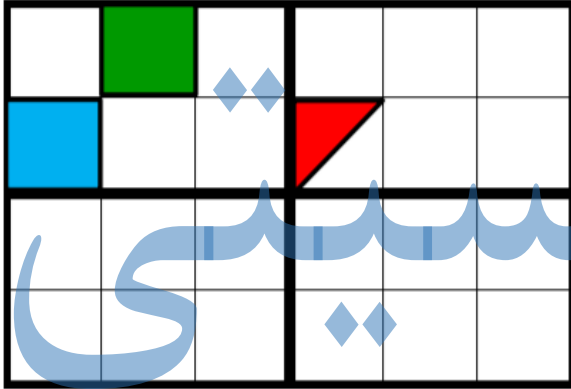
پایه: دوم

نام آموزگار: سرکار خانم عباسی

نام درس:

نام و نام خانوادگی دانش آموز:

۱. عزیزم، چند عدد دو رقمی می توانی بنویسی که رقم دهگانش ۲ یا ۷ و رقم یکانش ۵، ۹ یا ۳ باشد. به صورت منظم (نظام دار) بنویس.



۲. با توجه به خط تقارن، کامل کن.



۳. ساعت چه زمانی را نشان می دهد؟ یک ساعت و نیم بعد را نشان بده.



۴. یک ربع مانده به ۷ را روی ساعت نشان بده.

۵. با کارت رقم های ۵ و ۸ و ۳ اعداد سه رقمی بنویس و از بین عددهایی که نوشتی:

بزرگترین و کوچکترین عدد را با رقم و با حروف بنویس.

بزرگترین عدد: با رقم: با حروف:

کوچکترین عدد: با رقم: با حروف:

ب (عددهایی را بنویس که رقم صدگانش کمتر از یکانش باشد)

۶. سکه ها را بشمار.



۷. الگوهای عددی را کامل کن.

۴۵۳ - ۴۵۴ - ۴۵۷ -

۵۸۰ - ۵۸۵ - ۵۹۰ -

۸. جاهای خالی را کامل کن.

۵۳۲ میلی متر سانتی متر و میلی متر است. ۴ سانتی متر و ۲ میلی متر میلی متر است.

۹. حاصل جمع و تفریق زیر را به روش فرایندی (گسترده نویسی) به دست آور.

$$\begin{array}{r} ۳۵۳ \\ +۵۲۴ \\ \hline \end{array} \quad \begin{array}{r} ۷۴۲ \\ -۲۱۶ \\ \hline \end{array}$$



۱۰. قد سمانه ۱۰۰ سانتی متر است. خواهرش ۳۰ سانتی متر از او کوتاه تر است. قد آن‌ها روی هم چند سانتی متر است؟

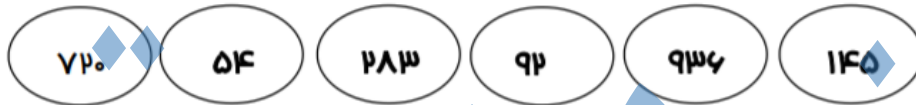
الف- قد خواهر سمانه چند سانتی متر است؟

ب- حالا قد آن‌ها روی هم را حساب کن.

۱۱. جواب جمع و تفریق‌های زیر را به صورت انتقالی (تکنیکی) به دست آور.

$$\begin{array}{r} 498 \\ +359 \\ \hline \end{array} \quad \begin{array}{r} 504 \\ -276 \\ \hline \end{array} \quad \begin{array}{r} 634 \\ -567 \\ \hline \end{array}$$

۱۲. عددهای فرد را با رنگ سبز و عددهای زوج را با رنگ قرمز مشخص کن.



۱۳. در یک کیسه ۱۲ مهره به رنگ قرمز و ۹ مهره به رنگ آبی وجود دارد.

در این کیسه مهره از مهره، آبی است.

در این کیسه مهره از مهره، قرمز است.

- اگر بدون نگاه کردن به مهره‌ها یک مهره برداریم، شانس بیرون آمدن کدام رنگ بیشتر است؟ چرا؟

.....

۱۴. فرزند باهوشم، با توجه به شکل‌ها کامل کن.

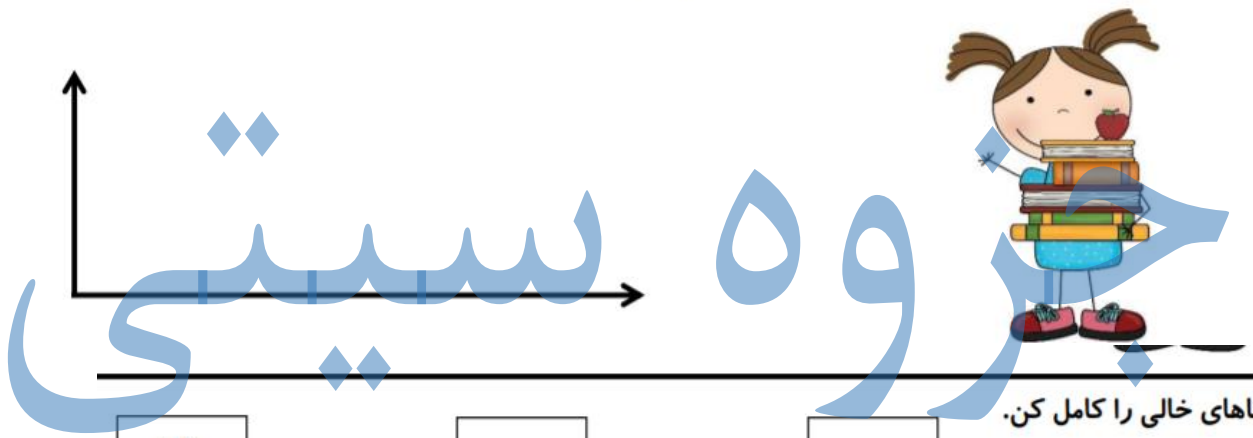


..... دسته‌ی تایی می‌شود تا

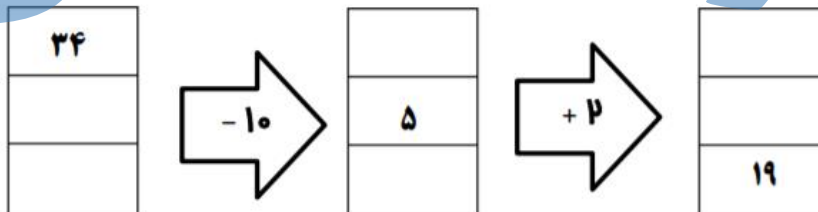


..... دسته‌ی تایی می‌شود تا

۱۵. فاطمه ۳۰ صفحه از کتاب ریاضی، ۵۵ صفحه از کتاب فارسی و ۴۰ صفحه از کتاب علوم را مطالعه کرده است. اگر هر ۱۰ صفحه را با یک \bigcirc نشان دهیم، نمودار تصویری میزان مطالعه فاطمه را رسم کنید.



۱۶. جاهای خالی را کامل کن.



موفق باشی عزیزم

